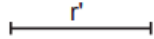


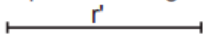
Dados dos puntos, traza las circunferencias que pasan por estos con un radio r'



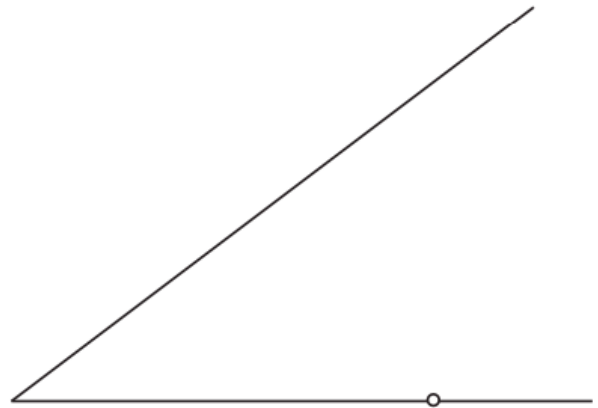
Traza la circunferencia que pasa por los tres puntos dados



Trazar la circunferencia con radio r' tangente a la recta por el punto de tangencia dado sobre ella



Dadas dos rectas y un punto de tangencia sobre una de ellas, traza la circunferencia tangente con un radio r



Traza la circunferencia de radio r tangente a ambas rectas.

